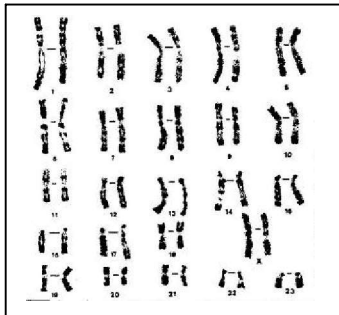


<b>EXERCICE DE REMÉDIATION - 3<sup>ème</sup></b>		<b>31-Ra318</b>
Partie du programme	Diversité et unité des êtres vivants	
Capacité	Raisonnement	
	Répondre au problème initial à partir de données de différents documents.	
Pré requis	Notion de caryotype – les caractéristiques du caryotype humain – les cellules de l'organisme possèdent la même information génétique.	

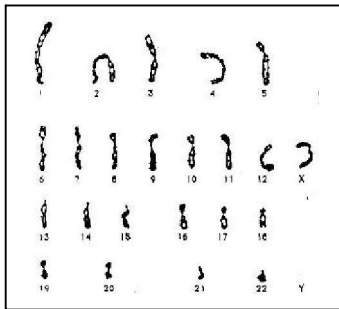
Titre : Trouver le bon caryotype.

### ÉNONCÉ

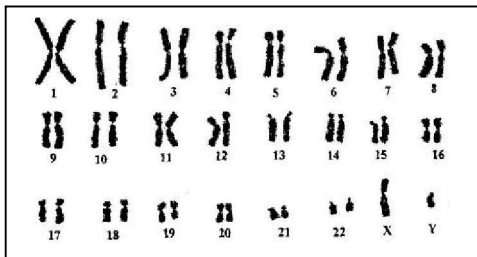
A partir des différentes propositions, retrouver le caryotype des cellules du cerveau, de la peau et du cœur d'une femme qui ne présente aucune anomalie.  
 Inscrire dans le cadre placé près de chaque organe le numéro du caryotype ( N° : ) et le nombre de chromosomes ( nbr : ) qu'il comporte.



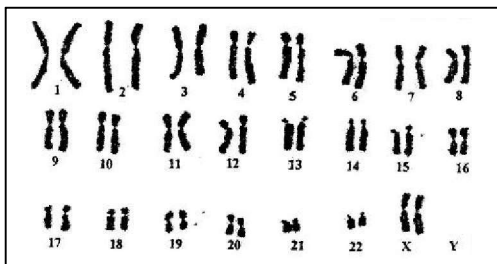
1



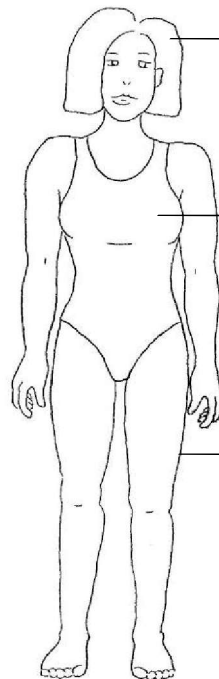
2



3



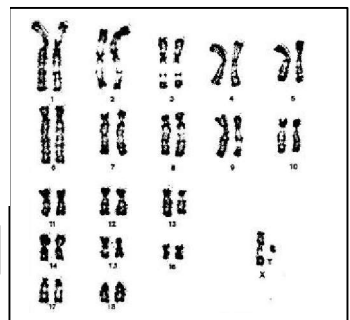
5



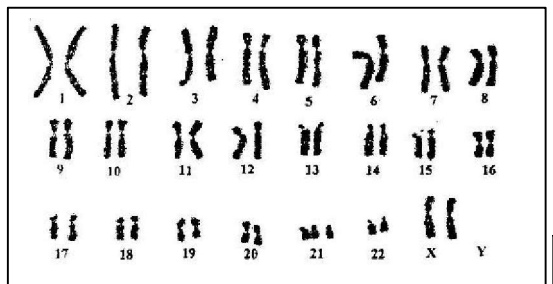
N° :    nbr :

N° :    nbr :

N° :    nbr :



4



6